

1期

2024年度 中学校入学試験問題

社会

注意

- 1 問題用紙は開始のチャイムが鳴ってから開いてください。
- 2 解答はすべて解答用紙に記入してください。
- 3 受験番号と氏名は解答用紙と問題用紙に記入してください。
どちらも集めます。
- 4 試験時間は40分です。

受験番号

<input type="text"/>	<input type="text"/>	<input type="text"/>	<input type="text"/>
----------------------	----------------------	----------------------	----------------------

氏

名

<input type="text"/>

1

過去から現在までの歴史をみていくと、歴史のさまざまな場面で、女性たちが登場することに気がきます。次の A～O の文章は、そのような例について述べたものです。後の問いに答えなさい。

A ㉞卑弥呼は、神のおつげを伝えて人びとの心をとらえ、弟が卑弥呼の考えにもとづいて政治をおこなっていました。また、卑弥呼は人びとの前には姿を見せず、女性のめしつかいが、身のまわりの世話をしていたという記録も残されています。

問1 下線部㉞について、卑弥呼が女王として支配していた国の名前は何ですか。この国の名前を漢字で答えなさい。

B 最初の女性の天皇である推古天皇^{そくい}が即位すると、聖徳太子(厩戸王)は、推古天皇を助けて国づくりを進めました。そして、603年には冠位十二階、604年には㉞憲法十七条が定められました。

問2 下線部㉞について、次のア～オの文章の中で、憲法十七条の内容として正しくないものを一つ選び、記号で答えなさい。

- ア 争いをやめて仲良くしなさい。
- イ 天皇の命令を守りなさい。
- ウ 天皇は能力によって役人をとりたてなさい。
- エ 仏教を大切にしなさい。
- オ 役人たちは礼儀正しくしなさい。

C 聖武天皇は、仏教を大切に^{こうみけこうごう}した光明皇后とともに、全国に国分寺と(㉞)を建てるように命令しました。また、光明皇后は仏教の教えをもとに、^{こじ}孤児や病人を収容する^{ひでんいん}悲田院や、病人に^{いりょう}医療をおこなう^{せやくいん}施薬院をつくったことでも知られています。

問3 空欄(㉞)にあてはまる寺院の名前を、漢字で答えなさい。

D 平安時代の後半に、㉞藤原氏はむすめを天皇の^{きさき}后とし、生まれた子が天皇になることで大きな力を持ち、天皇にかわって政治を行いました。

問4 下線部㉞について、藤原氏の祖(初代のこと)で、大化の改新の中心人物の名前を漢字で答えなさい。

E 清少納言は、㊦かな文字を使って、宮廷の生活や自然の変化をいきいきと表現した『枕草子』を書きました。

問5 下線部㊦について、かな文字を使って、光源氏を主人公とし、貴族のくらしや登場人物の心の動きをこまやかにえがいた小説を書いた人物は誰ですか。その人物の名前を漢字で答えなさい。

F 朝廷は、源氏の将軍が絶えたあとの1221年に、北条氏を^{たお}倒す兵を集めました。源頼朝の妻の北条政子は、この時、主な御家人たちを集めて、下のような話をしたことで知られています。

みな心を一つにして聞きなさい。これが最後の言葉です。頼朝様が平氏をほろぼして、鎌倉に幕府を開いて以来の(皆さんが)受けた恩は、山より高く海より深いものです。皆さんの御恩にむくいる気持ちが少ないはずはありません。それなのに今、朝廷は、悪い家臣の意見によって、正しくない命令を出しました。^{めいよ}名誉を大切に^{めいよ}する者は、朝廷の軍勢を打ち破り、源氏3代の将軍がきずきあげたものを守りなさい。ただし、朝廷に味方しようとする者は、ここで申し出なさい。

(注) もとの資料である『吾妻鏡』^{あづまがみ}を、意味を変えずに現代文にしてあります。

問6 この話を聞いて御家人たちはどのように感じましたか。そして、その後どのような行動をとりましたか。まとめて書きなさい。

G 安土・桃山時代には、出雲の阿国^{いずも おくに}という女性がかぶき踊り^{おど}を始め、人気を呼びました。この芸能は、後に男性がにない手となり、現在の^か歌舞伎につながりました。

問7 下線部^かについて、『^{そ ね ぎ 崎 心 中}曾根崎心中』や『^{こ く 姓 爺 合 戦}国姓爺合戦』などの作品を書き、江戸時代に歌舞伎や人形浄瑠璃^{じょうるり}を大きく発展させた人物の名前を漢字で答えなさい。

H 織田信長は尾張国(現在の愛知県)の大名でしたが、^き駿河国(現在の静岡県)の今川義元の大軍を破り、その名が広まりました。織田信長の妹は、市といい、浅井長政や柴田勝家といった武将にとついでことで知られています。

問8 下線部^きについて、この戦いの名前を、解答欄にあうように漢字で答えなさい。

I 江戸時代、ヨーロッパから日本に来ていた医者の中に、㉔シーボルトがいます。シーボルトにはイネという娘がいました。イネは西洋医学を学び、産科医になりました。

問9 下線部㉔について、シーボルトが開いた医学の塾じやくの名前を漢字で答えなさい。

J 1871年、岩倉具視を中心とする使節団は、アメリカやヨーロッパにむかい、欧米の政治・経済のしくみや産業、文化を学びました。その一行には、㉕日本で最初の女子留学生も参加していました。

問10 下線部㉕について、この女子留学生の中には、出発当時満6歳さいの少女もいました。この人物の名前を漢字で答えなさい。

K 世界遺産にも登録されている㉖群馬県の富岡製糸場では、明治時代には全国から集められた「工女」と呼ばれる女性たちが働いていました。

問11 下線部㉖について、明治政府は産業を盛んにするために、欧米から技術者を招き、優れた機械を買い入れ、工場をつくりました。富国強兵を目指して政府が行ったこのような政策は何と呼ばれますか。漢字4文字で答えなさい。

L 明治時代には、人びとのありのままの姿を表現する小説家も現れました。その中には、『たけくらべ』を書いた(㉗)のように、女性の小説家もいました。

問12 空欄(㉗)にあてはまる小説家の名前を、漢字で答えなさい。

M 現在の大阪府堺市出身の与謝野晶子は、㉘日露戦争で兵士として戦場にいる弟を心配し、「君死にたまふことなかれ」という一節で知られる歌をよみました。

問13 下線部㉘について、日露戦争の講和会議に代表として参加し、1911年に不平等条約の改正をなしとげた外交官は誰ですか。次のア～エから一人選び、記号で答えなさい。

ア 東郷平八郎 イ 陸奥宗光 ウ 小村寿太郎 エ 井上馨

N 太平洋戦争のおわりごろに、アメリカ軍は沖縄への攻撃^{こうげき}を本格化させました。アメリカ軍は大軍で沖縄へ上陸し、激しい地上戦が行われました。その中で(㊟)学徒隊のように戦場に動員され、命を落とした女子生徒もいました。

問14 空欄(㊟)にあてはまる言葉をひらがな4文字で答えなさい。

O 日本で女性に参政権が認められたのは、1945年です。第二次世界大戦が終わった後、㊟アメリカ軍による占領が行われ、日本の民主化や戦後改革が進んでいく中でのことでした。

問15 下線部㊟について、アメリカ軍による占領中の出来事としてふさわしくないものを次のア～エから一つ選び、記号で答えなさい。

- ア 解散していた政党が復活する。
- イ 軍隊が解散させられる。
- ウ オリンピック・パラリンピック東京大会がひらかれる。
- エ 農地改革が行われる。

下の文章は、横浜から青森に引っ越したみつばさんが、友人のふたばさんにあてて送った手紙です。この手紙を読んで、後の問いに答えなさい。

ふたばさんへ

ふたばさん、元気になっていますか。

父の転勤で青森に引っ越しましたが、なにかもが新鮮な毎日で、楽しく過ごしています。

この間は、下北半島の先端にある大間崎という場所に行ってきました。大間崎には、「ここ本州⑥最北端の地」という碑が立っていて、お天気がいいと函館まで見えます。青森県が①東北地方の中で最も北にあることはもちろん知っていたのですが、「本州の最北端」というと、すごいところに来たような感じがしてしまいます。近くのおみやげ屋さんで「本州最北端到着証明書」が売っていたので、記念に買ってみました。

青森に住んで特によかったのは、なんといっても食べ物おいしいことです！スーパーに行くと、「青天の霹靂」「津軽ロマン」「まっしぐら」などの②お米が売っていて、お米の種類に詳しくなりました。私のお気に入りには、「青天の霹靂」です。市内にもたくさん田んぼがあり、横浜にいる時よりも田んぼを目にする機会がたくさんあります。青森県の田舎館村という場所では、「田んぼアート」が毎年行われていて、実際に見に行ってみたらその大きさに驚きました。稲の色のちがいが絵になるらしいです。今年は、ふたばさんの好きなアニメのキャラが「田んぼアート」になっていたのも、写真を後で送りますね。

お米以外にも、野菜、果物、③お魚など何でもおいしく感じます。海も山も近くにあるからかなあ。山といえば、弘前という町から岩木山という山がとてもきれいに見えます。「津軽富士」とも呼ばれているとても美しい山で、私も見て感動しました。岩木山にも一度登ってみたいし、世界遺産の④白神山地にも今度の夏は遊びに行こうと家族で計画しています。

ぜひ青森はいいところなので、一度遊びに来てくださいね。⑤東北新幹線に乗ると、東京から新青森駅まで3時間ほどで着きます。ふたばさんに、ぜひおいしい⑥りんごスイーツの店を紹介したいです。

それでは、またお手紙を書きますね。ふたばさんの様子もよかったら知らせてくださいね。

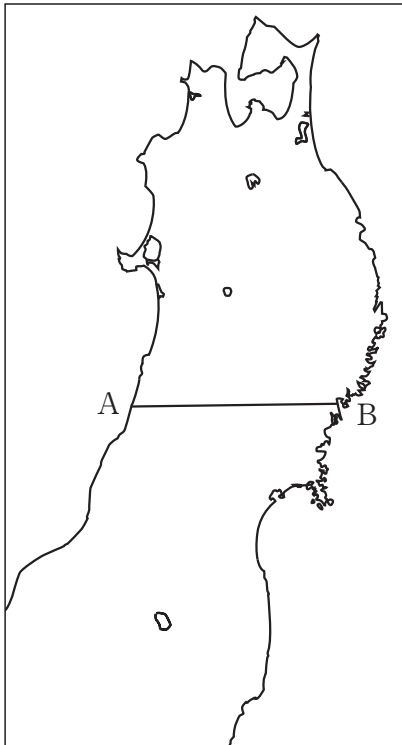
みつば

問1 下線部㉔について、外務省のホームページにある「日本の領土データ」には、日本の領土の最東端は東経 153 度 59 分 12 秒の島で、最北端は北緯 45 度 33 分 26 秒の島と書かれています。最東端の島と最北端の島の名前をそれぞれ漢字で答えなさい。

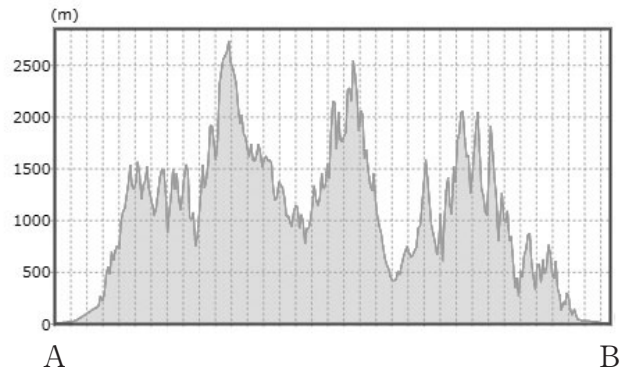
問2 下線部㉕について、後の問いに答えなさい。

(1) 下の地図は、青森県を含む東北地方の地図です。地図中の A—B の断面を表した図として、最もふさわしいものを下のア～エから一つ選び、記号で答えなさい。

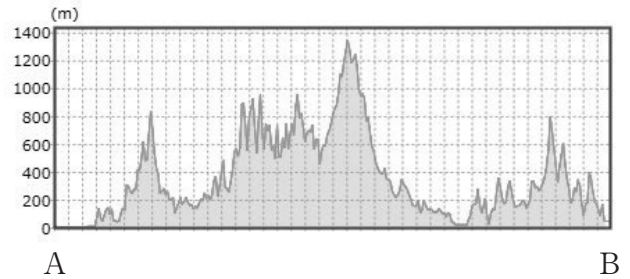
(地図)



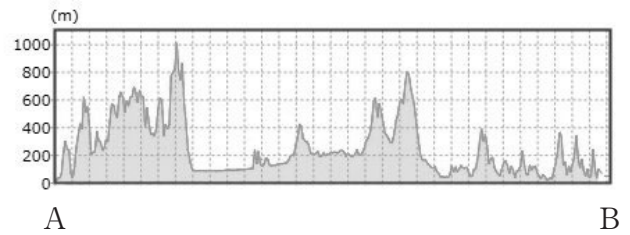
ア



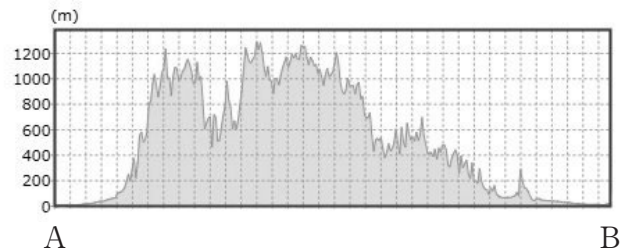
イ



ウ



エ



国土地理院ホームページより作成

- (2) 下の表は、東北地方に位置する6県について、面積(2021年)、人口(2021年)、農業産出額(2020年)を比較したものです。表中のA～Eは、青森県以外の東北地方の5県のいずれかが入ります。福島県と山形県をA～Eからそれぞれ選び、記号で答えなさい。

	面積 (km ²)	人口 (千人)	農業産出額 (億円)	農業産出額			
				米	野菜	果実	畜産
青森県	9646	1221	3262	548	821	906	883
A	11638	945	1898	1078	301	89	365
B	13784	1812	2116	762	480	299	434
C	7282	2290	1902	795	275	30	724
D	15275	1196	2741	566	292	142	1628
E	9323	1055	2508	837	465	729	376

『2023 データでみる県勢』より作成

問3 下線部⑤について、後の問いに答えなさい。

- (1) 米の消費量の減少にともない、1970年ごろから2018年まで米の生産を調整する減反政策がとられました。この政策の一つで、生産する作物を米から別のものに変えることを何といいますか。漢字で答えなさい。
- (2) 米作りに使う機械の一つで、^{いねか}稲刈りと脱穀を同時に行う機械を何といいますか。カタカナで答えなさい。

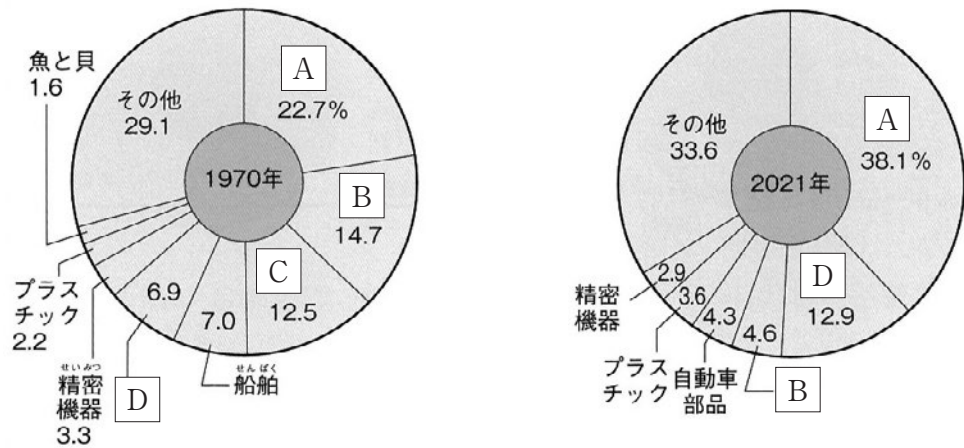
問4 下線部⑥について、下の表は2022年における、都道府県ごとの魚種別漁獲量を示したものです。表中のA～Eは、青森県、千葉県、静岡県、鳥取県、鹿児島県のいずれかを表しています。青森県をA～Eから選び、記号で答えなさい。

	合計								
	まぐろ類	かつお類	いわし類	さば類	ぶり類	たら類	かに類	いか類	
A	1524	170	553	491	240	6	－	0	2
B	1026	2	2	666	111	94	－	0	4
C	819	26	85	465	58	44	3	26	12
D	620	37	15	153	53	11	94	4	112
E	381	56	37	70	65	19	－	0	4

(単位：100トン)
農林水産省ホームページより作成

問5 下線部㉔について、白神山地は（ ）の天然林で知られ、それが評価されたことによって、1993年に世界自然遺産に登録されました。（ ）に入る木の種類を答えなさい。

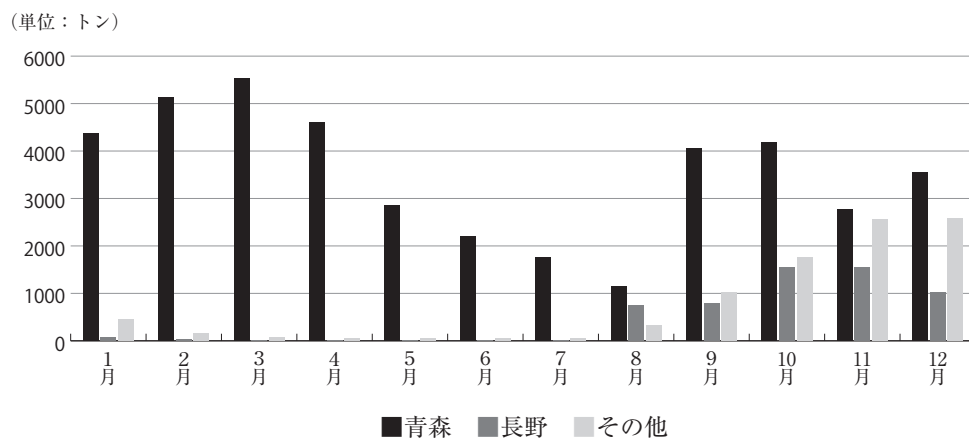
問6 下線部㉕について、青森県では、東北新幹線の開通や高速道路が整備されたことを利用して、県内へ企業や工場に来てもらうことに力を入れています。その結果、電子部品などの製造がさかんとなり、日本の輸出をささえています。下のグラフは、1970年と2021年の日本全体の輸出品の金額の内訳を示したものです。グラフ中のA～Dに入る語句の正しい組み合わせを下のア～カから一つ選び、記号で答えなさい。ただし、グラフ中の同じアルファベットには同じ語句が入ります。



『日本のすがた 2023』より作成

- | | | | | |
|---|-------|-------|-------|-------|
| ア | A 自動車 | B 機械類 | C 繊維品 | D 鉄鋼 |
| イ | A 自動車 | B 繊維品 | C 鉄鋼 | D 機械類 |
| ウ | A 自動車 | B 鉄鋼 | C 繊維品 | D 機械類 |
| エ | A 機械類 | B 鉄鋼 | C 繊維品 | D 自動車 |
| オ | A 機械類 | B 繊維品 | C 自動車 | D 鉄鋼 |
| カ | A 機械類 | B 自動車 | C 鉄鋼 | D 繊維品 |

問7 下線部⑤について、下のグラフは、2022年における、東京市場向けのりんご出荷量を産地別（青森県、長野県、その他）に表したものです。このグラフで表されている、青森県のリんごの出荷の一年を通しての特徴を書きなさい。



東京都卸売市場ホームページより作成

3

日本の政治では、選挙によって選ばれた代表者によって構成される議会で物事を話し合って決める、議会制民主主義が採用されています。後の問いに答えなさい。

問1 国会はさまざまなことを話し合い、政治の方針を決める国の議会です。そして国会議員は、国民による選挙で選ばれます。このやり方によって日本国憲法の三つの原則の一つを実現しようとしています。その原則とは何ですか。漢字で答えなさい。

問2 国会は、衆議院と参議院に分かれています。参議院に関する説明として正しいものを、次のア～オからすべて選び、記号で答えなさい。

ア 2022年7月に、選挙が行われた。

イ 2023年12月時点での定数は、465人である。

ウ 議員の任期は4年である。

エ 任期途中で解散はなく、3年ごとに議員の半数が改選される。

オ 本会議場が国会の開会式に使用され、天皇が出席する。

問3 日本国憲法第41条において、国会は「国の唯一の（ ）である」と定められています。空欄にあてはまる言葉を漢字で答えなさい。

問4 国会には、常会、臨時会、特別会などの区別があります。また、法律案は内閣と国会議員がそれぞれ作成し、国会へ提出できます。次の表は、第204回から第211回までの国会に提出された法律案の提出件数と成立件数を、内閣が提出したものと国会議員が提出したものに分けて、まとめたものです。後の問いに答えなさい。

区分 国会会期	内閣提出法律案 提出件数	内閣提出法律案 成立件数	議員提出法律案 提出件数	議員提出法律案 成立件数
第204回(常会) 2021年1月18日～6月16日	63件	61件	82件	21件
第205回(臨時会) 2021年10月4日～10月14日	0件	0件	3件	0件
第206回(特別会) 2021年11月10日～11月12日	0件	0件	1件	0件
第207回(臨時会) 2021年12月6日～12月21日	2件	2件	14件	2件
第208回(常会) 2022年1月17日～6月15日	61件	61件	96件	17件
第209回(臨時会) 2022年8月3日～8月5日	0件	0件	0件	0件
第210回(臨時会) 2022年10月3日～12月10日	22件	21件	25件	6件
第211回(常会) 2023年1月23日～6月21日	60件	58件	67件	13件

(注) 継続審議^{けいぞくしんぎ}は含みません。
内閣法制局ホームページより作成

(1) 表から読み取ることのできることを正しいものを、次のア～エからすべて選び、記号で答えなさい。

- ア 内閣の提出する法律案の方が、議員の提出する法律案よりも成立しやすい。
- イ 常会は、毎年1月～6月にかけて開かれている。
- ウ 特別会では、内閣も、国会議員も、法律案を提出することはできない。
- エ 臨時会では、さまざまな法律案が審議されるが、成立することはない。

(2) 第206回国会では、衆議院と参議院の本会議でそれぞれ投票が行われ、内閣総理大臣が指名されました。このとき指名された内閣総理大臣はだれですか。人名を漢字で答えなさい。

問5 国会で決められた法律や予算にもとづいて、内閣が実際の行政を担います。内閣について、後の問いに答えなさい。

(1) 内閣のはたらきとして正しいものを、次のア～エから一つ選び、記号で答えなさい。

- ア 国会が承認した条約を公布する。
- イ 国会の召集を決める。
- ウ 最高裁判所の裁判官に対して、ふさわしいかを審査する。
- エ 法律が憲法に違反していないかを審査する。

(2) 内閣のもとには、府・省・庁などの組織が置かれ、仕事を分担して進めます。2023年4月に新たに発足し、内閣府に置かれた省庁を何とといいますか。

問6 国会には、裁判官をやめさせるかどうかを決める裁判所が設置されています。この裁判所を何とといいますか。漢字で答えなさい。

問7 地方公共団体には地方議会が置かれており、都道府県議会や市区町村議会があります。地方議会や地方公共団体について、後の問いに答えなさい。

(1) 地方議会の議員は、住民による選挙で選ばれます。地方議会の議員に立候補できる年齢は満何歳以上と規定されていますか。次のア～エから一つ選び、記号で答えなさい。

- ア 満18歳以上 イ 満20歳以上 ウ 満25歳以上 エ 満30歳以上

(2) 地方公共団体の長(首長)は、地方議会の議員とは別に、住民による選挙で選ばれます。都道府県の長(首長)を何とといいますか。漢字で答えなさい。

(3) 2023年4月には、多くの地方議会の議員や首長を決める選挙が同日に行われる統一地方選挙がありました。このとき、特に地方議会の議員の選挙で、無投票で当選する場合が増え、問題であると指摘されました。地方議会の議員の選挙が無投票になることが問題であるという立場に立つと、あなたはどのような点が問題であると考えますか。文章で説明しなさい。

問8 世界では、各国の代表者が話し合う会議が多く開かれています。下の2つの文章を読み、後の問いに答えなさい。

国際連合は、1945年に創設されました。国際連合には総会、(A)、国際司法裁判所などの機関が置かれています。(A)は、世界の平和と安全を維持するため、強い権限を与えられており、常任理事国5か国と、総会で選ばれる非常任理事国10か国とで構成されます。常任理事国は拒否権^{きよひ}を持ち、会議で一か国でも反対すると決議^{けつぎ}ができません。2022年には、(A)は、ロシアのウクライナ侵攻^{しんこう}に関連する会議を約50回開きましたが、問題の解決につながるような決議は一度もできませんでした。

G7サミット(主要国首脳会議)とは、フランス、アメリカ、イギリス、(B)、日本、イタリア、カナダの7か国と、欧州連合(EU)の首脳が参加して毎年開催^{かいさい}される国際会議です。G7のメンバーだけでなく、招待された国や国際機関などが参加することもあります。2023年5月19日から21日にかけて、日本が議長国となり、G7サミットが(C)で開催されました。

- (1) 文章中の空欄(A)にあてはまる言葉を漢字で答えなさい。
- (2) 文章中の空欄(B)・(C)にあてはまる国名と地名の組み合わせとして正しいものを、次のア～エから一つ選び、記号で答えなさい。

ア	B	スペイン	C	長崎	イ	B	スペイン	C	広島
ウ	B	ドイツ	C	長崎	エ	B	ドイツ	C	広島