

2期

2024年度 中学校入学試験問題

社 会

注 意

- 1 問題用紙は開始のチャイムが鳴ってから開いてください。
- 2 解答はすべて解答用紙に記入してください。
- 3 受験番号と氏名は解答用紙と問題用紙に記入してください。
どちらも集めます。
- 4 試験時間は40分です。

受 験 番 号

<input type="text"/>	<input type="text"/>	<input type="text"/>	<input type="text"/>
----------------------	----------------------	----------------------	----------------------

氏

名

<input type="text"/>

1

人びとは、過去から現在にいたるまで、さまざまなモノをつくってきました。その中には、建物や大規模な施設しせつもありました。次の A～P の文章は、そのような例について述べたものです。後の問いに答えなさい。

A 米づくりが広がった時代の集落には、㉔まわりを囲む深いほり、木のさくのほか、物見やぐらが設けられている例もあります。

問1 下線部㉔のような特徴とくちょうを持つ集落の代表的な遺跡が、佐賀県にあります。この遺跡では、これまで調査されていなかった区域はくくつの発掘がおこなわれ、2023年6月に話題になりました。この遺跡の名前を漢字で答えなさい。

B 3世紀から7世紀にかけて、日本各地に古墳がさかんにつくられました。大阪府堺市にある㉕大山(大仙)古墳は、5世紀ごろにつくられたとされる日本で最も大きな古墳です。

問2 下線部㉕について、大山古墳のような形の古墳を何と呼びますか。漢字で答えなさい。

C 世界遺産にも登録されている㉖法隆寺は、奈良盆地の西部に位置する寺です。この寺には五重塔や、仏像をおさめるための金堂こんどうなどが建てられています。

問3 下線部㉖について、この寺が建設された時代に、日本から中国に小野妹子らが使節として送られました。この使節を何と呼びますか。使節の名前を漢字で答えなさい。

D 聖武天皇は、全国に国分寺を建てることを命じ、都には東大寺を建てました。そして、㉔大仏をつくることを決めました。下の文章は、大仏をつくるための詔（命令）の一部です。

天平十五（743）年の冬十月に、聖武天皇の詔が出された。「……ここに、天平十五年十月十五日をもって、仏教をさかんにし、すべての生き物を救おうという仏の願いにそって、仏の金銅像一体をおつくりする。国じゅうの銅をとかして仏像の形をつくり、大山からけずって大仏殿を建て……。

天下の富をもつ者は自分である。天下で威厳をそなえるものも自分である。この富や威厳をもって、この仏像をつくろう。（しかしながら）実行はたやすいが、心が伝わるのは難しい。ただ恐れるのは、人びとの負担が大きくなって、仏を感じる事が無くなることだ。あるいは不満を言って、かえって罪になってしまうことだ。それなので、ともに協力する者は、……自ら信念をもって仏像をつくるべきである。もしさらに、一本の枝、ひとつかみの土を持って協力しようとする者がいれば、これを受け入れよう。……全国に知らせて、私の考えを伝えなさい。」

（注）もとの資料である『続日本紀』を、意味を変えずに現代文にしてあります。

問4 下線部㉔について、聖武天皇は大仏をつくる大工事を実施するのにあたり、どのようなことを大切にしましたか。詔の文章をふまえて書きなさい。

E 東大寺には多くの倉庫が建てられましたが、その中の一つに㉕正倉院があります。正倉院には、大仏の開眼式かいげんしきのときに使われた道具や、聖武天皇の持ち物などが、納められています。

問5 下線部㉕について、正倉院に納められているものとして正しいものを、下のア～エから一つ選び、記号で答えなさい。

ア ガラスの器 イ 三味線 ウ 束帯 エ めがね

F 京都府の宇治市に残されている建物が、(㉞)です。この建物は左右が同じ
つくりになっており、内部には阿弥陀如来像あみだにょらいぞうが置かれています。この建物は現在の
10円硬貨こうかにも、えがかれています。

問6 空欄(㉞)にあてはまる建物の名前を、漢字6文字で答えなさい。

G 岩手県の平泉にある中尊寺は、周辺の他の史跡しせきとともに世界遺産に登録されてい
ます。この寺は、境内にある㉟金色堂によって、世界に広く知られています。

問7 下線部㉟について、この建物を建てた人物の名前を下のア～エから一つ選び、記号
で答えなさい。

ア 藤原清衡 イ 藤原定家 ウ 藤原秀衡 エ 藤原道長

H ㊦源頼朝は、鎌倉に幕府をおきました。由比ヶ浜ゆいがはまから続く若宮大路わかみやおおじと呼ばれる道
のつきあたりには、鶴岡八幡宮が建てられています。

問8 下線部㊦について、源頼朝に関する文章として、正しくないものを、下のア～エか
ら一つ選び、記号で答えなさい。

- ア 元の要求をしりぞけ、元軍と戦った。
- イ 御家人たちと、御恩と奉公の関係で結ばれていた。
- ウ 征夷大將軍に任命され、全国の武士をしたがえる地位についた。
- エ 有力な御家人を守護や地頭につけた。

I 銀閣は、室町幕府の8代將軍足利義政によって建てられました。銀閣のある慈照じしょう
寺には東求堂とうくどうという建物も残されており、現在の和室につながる㊧同仁齋どうじんさいとよばれ
る部屋があります。

問9 下線部㊧について、この部屋のつくりを何と呼びますか。漢字で答えなさい。

J 尾張国の大名の家に生まれた織田信長は、1576年、琵琶湖のほとりに(㉔)を建てました。信長はこの城の城下町で、商業をさかんにする政策をとりました。

問10 空欄(㉔)にあてはまる城の名前を、漢字で答えなさい。

K 江戸城とその城下町は、台地をけずり海岸をうめ立ててつくられました。町の中には、多くの運河や㉕道が、整備されました。

問11 下線部㉕について、さまざまな道を通して江戸と各地を結び、書状や荷物を宿場ごとにリレー方式で届ける仕事を何といいますか。漢字で答えなさい。

L 明治時代に、日本の㉖生糸の生産量は大きく増加しました。群馬県にある生糸を生産する富岡製糸場は、明治時代を代表する文化財の一つです。

問12 下線部㉖について、下のア～エの文章のうち、正しいものを一つ選んで、記号で答えなさい。

- ア 江戸時代には、大部分の農民は生糸でつくられた着物を着ていた。
- イ 生糸からは、ナイロン生地などの化学繊維がつくられる。
- ウ 生糸は、つみ取られた綿花からつくられる。
- エ 明治時代の終わりごろには、日本の生糸の輸出量は世界一であった。

M 現在の福岡県北九州市に建てられた官営の(㉗)では、中国の鉄鉱石と九州の石炭が使われていました。ここでの鉄の生産は、国内生産の約8割を占めていたこともあります。

問13 空欄(㉗)にあてはまる製鉄所の名前を、漢字で答えなさい。

N 1945年、㊤広島に原子爆弾が落とされ、まちは一瞬のうちに破壊され、多くの人びとが亡くなりました。倒壊をまぬがれた数少ない建物の一つが、のちに「原爆ドーム」と呼ばれました。

問14 下線部㊤について、広島に原子爆弾が落とされた日は、1945年の何月何日ですか。解答欄にあうように答えなさい。

O ㊦1958年には、当時日本一の高さとなった東京タワーが完成しました。このニュースは、人びとの間で大きな話題となり、たくさんの人が訪れました。

問15 下線部㊧について、この年より前に起こった出来事を下のア～エから一つ選び、記号で答えなさい。

- ア 大阪で万国博覧会がひらかれる。
- イ 韓国と国交を回復する。
- ウ 日米安全保障条約が結ばれる。
- エ ベルリンの壁が崩壊する。

P アジアで初となるオリンピック・パラリンピック東京大会が㊨1964年に開かれました。大会の開催にむけて、競技施設だけでなく、ホテルがいくつも建てられ、道路や下水道、交通機関も整備されました。

問16 下線部㊨について、この年に開通した新幹線を下のア～エから一つ選び、記号で答えなさい。

- ア 秋田新幹線
- イ 東海道新幹線
- ウ 東北新幹線
- エ 北陸新幹線

2

ふたばさんは、夏休みに愛媛県を旅行したことをきっかけに、愛媛県や愛媛県のある中国・四国地方について調べることにしました。後の問いに答えなさい。

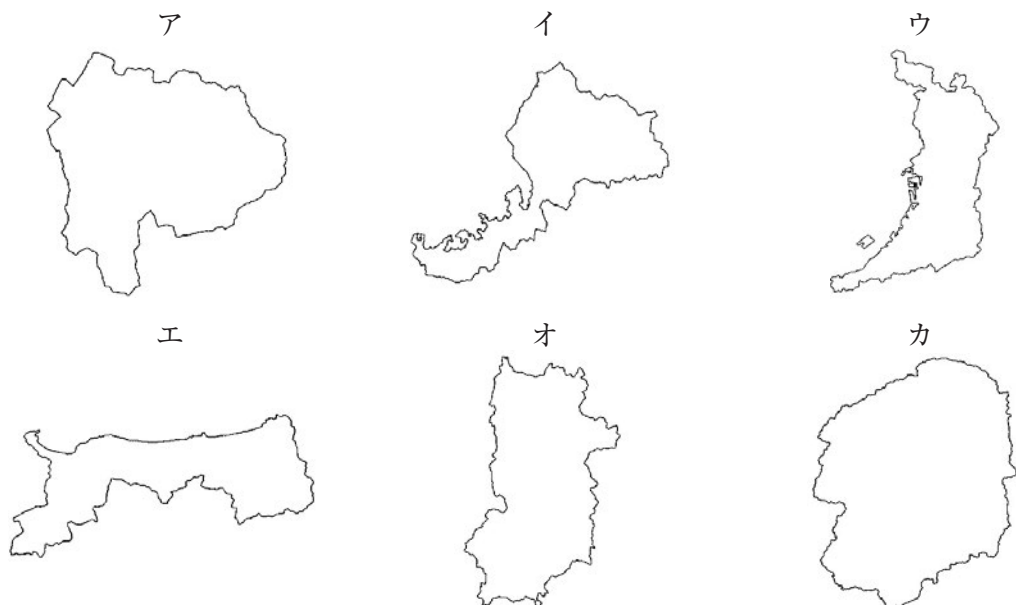
問1 ふたばさんは、愛媛県の地形の特徴についてまとめてみました。文中の空欄（ 1 ）・（ 2 ）にあてはまる適当な語句を答えなさい。ただし、同じ数字には同じ語句が入ります。また、（ 2 ）は漢字で答えなさい。

愛媛県は四国の北西に位置し、県の北側は瀬戸内海に面しています。南西部は、「宇和海」と呼ばれる海に面し、複雑に入り組んだ海岸地形である（ 1 ）海岸が見られます。

地図中の A は佐田岬半島とよばれ、日本一細長い半島だそうです。佐田岬半島の先端まで行くと、九州のうち最も距離の近い（ 2 ）県までわずか13kmで、肉眼でも十分確認できます。（ 2 ）県との間には、フェリーが運航されています。



問2 愛媛県の県庁所在地は松山市で、県名と県庁所在地の名称が異なる県です。ふたばさんは、他にも都道府県名と都道府県庁所在地の名称が異なる組み合わせの都道府県がないか探してみることにしました。次のア～カの都道府県のうち、都道府県名とその都道府県庁所在地の名称が異なるものをすべて選び、記号で答えなさい。



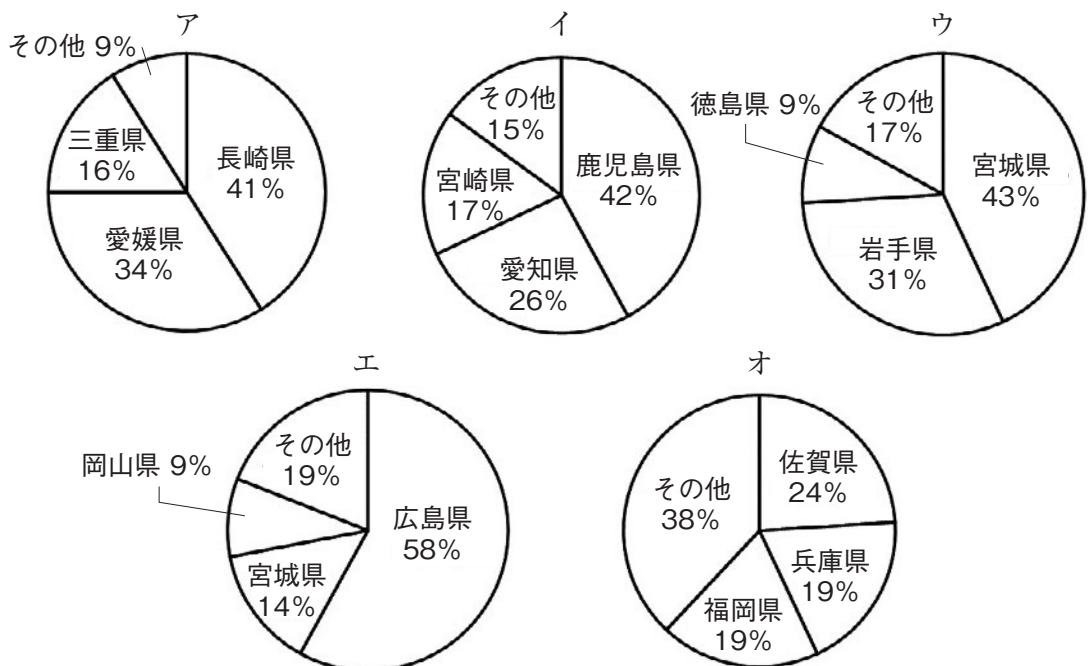
（注）縮尺は地図によって異なります。また、島などは省略されている場合があります。

問3 松山市は、夏になると毎年のように水不足が問題となることを、ふたばさんは教えてもらいました。特に1994年の「平成の大^{だいかっすい}渇水」では、7月下旬から約4か月間給水制限が行われました。松山市が水不足になる原因は、ダム不足や川の少なさなどもあります。そもそも降水量が少ないからです。松山市の降水量が少なくなる原因について説明した、下の文章の空欄（A）・（B）に入る適切な語句を漢字で答えなさい。

瀬戸内気候に分類される松山市では、夏は季節風が（A）山地をこえて吹^ふき、冬は季節風が（B）山地をこえて吹くため、降水量が少なくなります。


問4 まだいの養殖量が第1位の愛媛県では、まだいを使った料理が有名です。ふたばさんは、愛媛県西南部の宇和島市^{うわじま}で名物の「鯛^{たい}めし」を食べました。日本の養殖に関して、下の設問に答えなさい。

- (1) 海面の色が変化してしまうほどプランクトンが大量に発生し、海中の酸素が減るなどして、養殖している魚や貝が大量に死んでしまうことが、たびたびニュースになります。このような現象を何といいますか。
- (2) 次のア～オのグラフは、うなぎ、かき類、真珠、のり類、わかめ類のいずれかの2021年における養殖収穫量の上位3都道府県の割合を表したものです。このうち、真珠とわかめ類を示したグラフをそれぞれ選び、ア～オの記号で答えなさい。



『日本国勢図会 2023/24』より作成

問5 愛媛県東部に位置する新居浜市は、江戸時代に住友家が開いた別子銅山によって繁栄した、瀬戸内有数の工業都市です。次のグラフは、2020年における、日本各地の工業地域の製造品出荷額等の構成を表したものです。A～Dのグラフは、瀬戸内工業地域のほか、京葉工業地域、東海工業地域、北陸工業地域のいずれかのものです。A～Dのグラフと工業地域の名称の組み合わせとして正しいものを、下のア～カから一つ選び、記号で答えなさい。



『日本国勢図会 2023/24』より作成

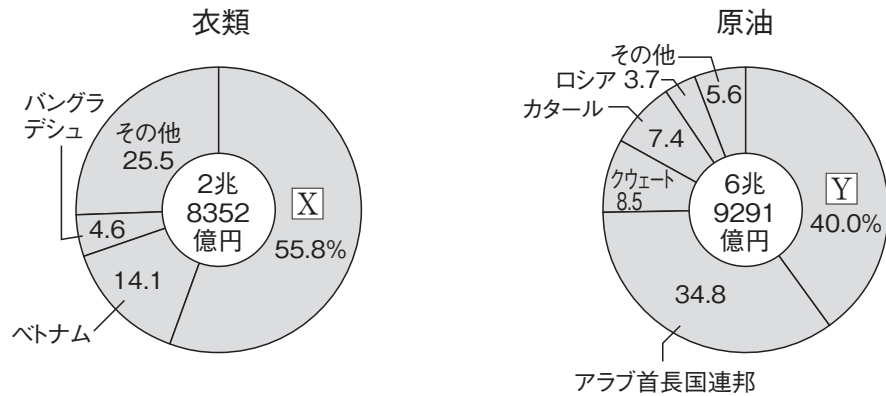
	A	B	C	D
ア	瀬戸内工業地域	京葉工業地域	東海工業地域	北陸工業地域
イ	京葉工業地域	瀬戸内工業地域	北陸工業地域	東海工業地域
ウ	京葉工業地域	北陸工業地域	東海工業地域	瀬戸内工業地域
エ	東海工業地域	瀬戸内工業地域	北陸工業地域	京葉工業地域
オ	瀬戸内工業地域	北陸工業地域	京葉工業地域	東海工業地域
カ	東海工業地域	北陸工業地域	京葉工業地域	瀬戸内工業地域

問6 松山空港には特産のみかんジュースの蛇口が設置されており、ふたばさんは蛇口をひねって出てくるみかんジュースを飲むことができました。次の表は2021年における、みかん、もも、かき、ぶどうの生産量の上位4都道府県を表したものです。A・Bにあてはまる都道府県の名前を答えなさい。ただし、同じ記号は同じ都道府県を示しています。

	みかん	もも	かき	ぶどう
1位	A	山梨県	A	山梨県
2位	愛媛県	福島県	奈良県	B
3位	静岡県	B	福岡県	岡山県
4位	熊本県	山形県	岐阜県	山形県

『日本のすがた 2023』より作成

問7 愛媛県北東部に位置する今治市は、日本有数のタオル生産地で、「今治タオル」は、地域ブランドとして海外でも広く知られ、積極的に輸出されています。一方、国内で流通するタオルの大部分は海外から輸入されたものです。このように日本は世界の国ぐにと輸出や輸入を通じてつながっています。次のグラフは、2021年の日本の衣類と原油について、それぞれの輸入先の国の内訳を示したものです。[X]、[Y]に入る国名を答えなさい。



『日本のすがた 2023』より作成

問8 愛媛県が位置する四国は、尾道・今治ルート、児島・坂出ルート、神戸・鳴門ルートの3つの本州四国連絡橋によって本州と結ばれています。連絡橋ができたことによって便利なことも増えましたが、愛媛県のある市で、下のような声が市民A・市民Bからあがってしまいました。あなたが市民A・市民Bが住む市の市長だとしたら、市としてどのような対応をしますか。市民A・市民Bのどちらの声に対応するかを選び、解答欄にA、もしくはBと書きなさい。その上で、具体的な対応の中身と、市長(あなた)が、そのような対応をとる理由を書きなさい。なお、市民A・市民Bのいずれを選んでもかまいません。

市民A: 橋ができたことで、橋を使って大きな都市へ買い物に行く人が増えたので、店の売上げが落ちてしまった。

市民B: 私は、本州と行き来する人や車を、船で運ぶ仕事をしていただけ、橋ができたことによって、仕事が減ってしまった。

3

東京にある国立公文書館^{こうぶんしょ}は、おもに明治時代から現代までの重要な資料などを保存・展示しています。ふたばさんは、憲法記念日に国立公文書館にでかけ、「日本のあゆみ」という展示を見学しました。後の問いに答えなさい。

問1 最初に、日本国憲法の原本を見ることができました。そこには御名^{ぎよめい}(天皇の署名)と御璽^{ぎよじ}(天皇の印)や、内閣総理大臣をはじめ、国務大臣らの署名がありました。

- (1) 日本国憲法の公布年月日を解答欄にあうように答えなさい。
- (2) 日本国憲法の公布時の内閣総理大臣はだれですか。正しいものを次のア～エから一つ選び、記号で答えなさい。

ア 伊藤博文 イ 黒田清隆 ウ 佐藤栄作 エ 吉田茂

問2 次に、1868年7月17日に出された詔書^{しゅうしょ}(天皇が出す命令書)が展示されていました。この詔書には、江戸が「東国第一の大鎮^{だいちん}(大都会)」で重要な場所であり、そこで政治をおこなうこと、「江戸」を「東京」とすることが書かれており、翌年東京が首都になりました。この詔書が出された年に起きた出来事を、次のア～エから一つ選び、記号で答えなさい。

- ア 五か条の御誓文が発表された。
- イ 西南戦争がおこった。
- ウ 台湾を植民地にした。
- エ 日米修好通商条約が結ばれた。

問3 ふたばさんは、絵巻物のようなものが展示されているのを見つけ、それが1872年に日本で初めて開通した鉄道の地図であることに気づきました。この地図の両端には「()ステーション」と「横濱^{よこはま}(横浜)ステーション」という駅名が書かれています。空欄に当てはまる地名を漢字で答えなさい。

問4 ふたばさんが、次の展示に目を向けると、「民撰議院設立建白書^{みんせん}(序文)」という名前の資料でした。資料の最後の「高智縣貫属士族^{こうちけんぞく}」と書かれている部分の横に、授業で学んだ人物の名前があることに気づきました。この人物は土佐藩(高知県)に生まれ、選挙にもとづく議会を開いて政治を行うべきだと主張し、自由党をつくった人物です。この人物の名前を漢字で答えなさい。

問5 明治天皇が1890年までに国会を開設することを表明した勅諭(天皇の命令)も展示されてきました。この勅諭が出されたことで国会が開設され、現在の国会にいたっています。現在の国会のはたらきとして正しいものを、次のア～エから一つ選び、記号で答えなさい。

- ア 憲法改正の発議を行う。
- イ 最高裁判所長官を指名する。
- ウ 法律が憲法に違反していないかを調べる。
- エ 法律の公布を行う。

問6 展示の中には大日本帝国憲法もありました。これらの展示を見てふたばさんは憲法における権利の保障や義務の規定について考えました。後の問いに答えなさい。

- (1) 大日本帝国憲法では、()に定められた範囲内で、^{しんみん}臣民(国民)に言論の自由などを認めていました。空欄にあてはまる言葉を漢字で答えなさい。
- (2) 日本国憲法には、「三大義務」と呼ばれる国民の義務が定められています。「教育を受けさせる義務」、「税金を納める義務」以外の「三大義務」は何ですか。

問7 1923年に起きた関東大震災の後に出された「^{ていと}帝都復興に関する詔書」も展示されて
 いました。次の表は、関東大震災、阪神・淡路大震災、東日本大震災による被害状況を
 比較したものです。表から読みとることができる内容として正しくないものを、次の
 ア～オからすべて選び、記号で答えなさい。

	関東大震災	阪神・淡路大震災	東日本大震災
発生年月日 時刻	1923年9月1日 午前11時58分	1995年1月17日 午前5時46分	2011年3月11日 午後2時46分
地震規模	マグニチュード7.9	マグニチュード7.3	マグニチュード9.0
直接死・ 行方不明者数	約10万5千人 (うち焼死約9割)	約5500人 (うち ^{ちっそく} 窒息・圧死約7割)	約1万8千人 (うち ^{できし} 溺死約9割)
全壊・全焼住家数	約29万 ^{むね} 棟	約11万棟	約12万棟
経済被害額	約55億円	約9兆6千億円	約16兆9千億円
当時の国家予算額	約14億円	約73兆円	約92兆円

内閣府ホームページ・令和5年版『防災白書』より作成

- ア 関東大震災で全壊・全焼した住家数は、他の2つの震災で全壊・全焼した住家数
 を合わせた数よりも多い。
- イ 地震の規模を表すマグニチュードがもっとも大きかったのは東日本大震災である。
- ウ 当時の国家予算額に対する経済被害額の割合がもっとも高いのは、東日本大震災
 である。
- エ 20世紀以降の日本の大地震による^{ぎせい}犠牲者のほとんどは、津波によるものであった。
- オ 東日本大震災の経済被害額は、阪神・淡路大震災の経済被害額の約3倍である。

問 8 選挙について定めた衆議院議員選挙法も展示されていました。この法律は、何度かの改正が行われています。下の資料は、1925年と1945年に改正されたこの法律の「第五条」をぬき出したものです。資料内の空欄（ A ）・（ B ）に当てはまる数字として正しいものを、ア～オからそれぞれ選びなさい。ただし、同じアルファベットには、同じ記号が入ります。

（資料）

[大正十四（1925）年改正]

第五条 帝国臣民タル男子ニシテ年齢^{ねんれい}（ A ）年以上ノ者ハ選挙権ヲ有ス
帝国臣民タル男子ニシテ年齢三十年以上ノ者ハ被選挙権ヲ有ス

[昭和二十（1945）年改正]

第五条 帝国臣民ニシテ年齢（ B ）年以上ノ者ハ選挙権ヲ有ス
帝国臣民ニシテ年齢（ A ）年以上ノ者ハ被選挙権ヲ有ス

ア 十

イ 十八

ウ 二十

エ 二十五

オ 三十

問9 ふたばさんは、「国際連合教育科学文化機関加入に関する件」と書かれた閣議書（閣議で決定をする際に作成される書類）の展示を見つけました。次の文章は、その閣議書の一部を読みやすくしたものです。この文章から読みとることができる内容として正しいものを、次のア～エから2つ選び、記号で答えなさい。

条条 第四二五号

昭和二十五年十二月八日 ……

……

国際連合教育科学文化機関加入に関して閣議を求める件

国際連合教育科学文化機関憲章は、昭和二十年十一月十六日に作成され、昭和二十一年十一月四日に効力を発生した。

このたび連合軍総司令部は、わが国がこの機関に加入することについて異議がないことを伝えてきた。よってわが国としては、この際この機関に加入し、各国間の文化の国際的協力を積極的に参加することは、大きな意味があると認められ、加入のためのさまざまな手続きを進めていきたいので、閣議を求める。

(注) 国際連合教育科学文化機関…ユネスコ
連合軍総司令部…GHQ (連合軍最高司令官総司令部)

- ア ユネスコ憲章は、太平洋戦争終了後につくられた。
- イ ユネスコ加盟への動きは、GHQの占領下で始まった。
- ウ ユネスコへの加盟の手続きは、GHQの命令によってすすめられた。
- エ ユネスコへの加盟は、日本が国際連合に加盟してから10年後に実現した。

問10 日本が外国と条約を結んだ際の資料も展示されていました。条約を結ぶためには、条約の内容を公布するなど、日本国内での手続きのために必要な書類も多くあります。条約の公布は日本国憲法第7条にもとづき、()が行います。空欄にあてはまる語を漢字で答えなさい。

問11 1989年1月7日、^{げんごう}元号法の規定にもとづいて、元号を「平成」に改めることが閣議で決定されました。この時、新元号を示した「平成の書」も展示にありました。次のア～エのうち、平成に起こった出来事を一つ選び、記号で答えなさい。

- ア アメリカで同時多発テロ事件が起こった。
- イ 消費税が10%に引き上げられた。
- ウ 新型コロナウイルス感染症が広がり、緊急事態宣言が出された。
- エ 青函トンネルが開通した。

